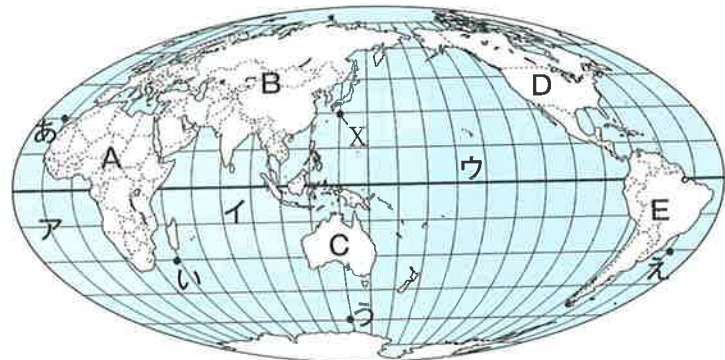


総合テスト(1)

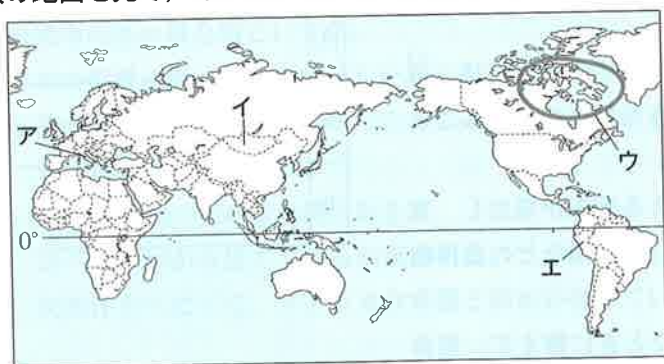
●得点 /100

1 次の地図を見て、あとの各問いに答えなさい。



- (1) 地図中のBの大陸名を書け。
- (2) 地球上で最も小さい大洋を、地図中のア～ウから1つ選び、その記号と大洋名を書け。
- (3) 赤道が通っている大陸が2つある。地図中のA～Eから2つ選び、その記号を書け。
- (4) 経度0度の経線が通っている大陸が2つある。地図中のA～Eから2つ選び、その記号を書け。
- (5) 地球上の陸地と海洋の面積の割合を、次のア～エから1つ選び、その記号を書け。
ア 2:8 イ 3:7 ウ 4:6 エ 6:4
- (6) 地図中のXは、北緯30度、東経135度の地点を示している。地球上でこの地点とちょうど反対側に位置する地点は、地図中のあ～えのどれか。

2 次の地図を見て、あとの各問いに答えなさい。



- (1) 次の①～④の説明に当てはまる国(地域)を、地図中のア～エから1つずつ選び、その記号を書け。
① 乾燥地帯に位置し、放牧をしながら、季節的に移動する遊牧民がいる。
② 高地に位置し、寒さから体を守るために、重ね着をするなどしている。
③ 多くが寒帯に位置しており、保温性のよいアザラシなどの毛皮を身につけて、寒さをしのいでいる。
④ この国では、パスタとよばれる、小麦粉を水で練ってオリーブオイルやトマトソースで調理した料理が多く食べられている。
- (2) 地図中のエの国を南北に走っている山脈を何というか。

1 (3)(4)順不同、各3【27点】

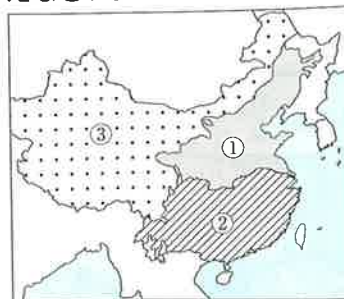
(1)	大陸
(2)	記号 大洋名
(3)	
(4)	
(5)	
(6)	

2 各3【15点】

(1)	①
(1)	②
(1)	③
(1)	④
(2)	山脈

3 右の地図を見て、次の各問いに答えなさい。

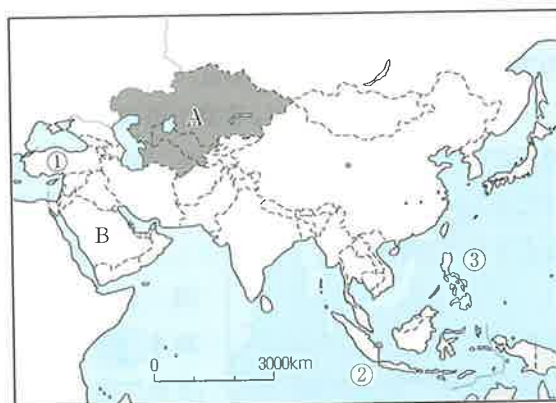
- (1) 地図中の①～③の気候を、次のア～エから1つずつ選び、その記号を書け。
ア 雨が少なく、乾燥している。
イ 温暖で、夏に雨が多い。
ウ 雨が少なく、気温も低い。
エ 温暖で、冬に雨が多い。



- (2) 地図中の①～③の地域の農業について、次の文中の() A～Eに当てはまる語句を、あとの〔 〕から選んで書け。
① (A) 中心で、(B)やとうもろこし、大豆がつけられている。
② (C) がさかんで、茶や(D) もつけられている。
③ 羊やらくだなどの伝統的な(E) が行われている。
〔 遊牧 酪農 稲作 畑作 オアシス 綿花 小麦 〕
- (3) 近年、地図中の②と③の地域の間では、収入の〔 〕が問題となっている。〔 〕に当てはまる語句を、漢字2字で書け。

4 右の地図を見て、次の各問いに答えなさい。

- (1) 地図中の①～③の国名を書け。



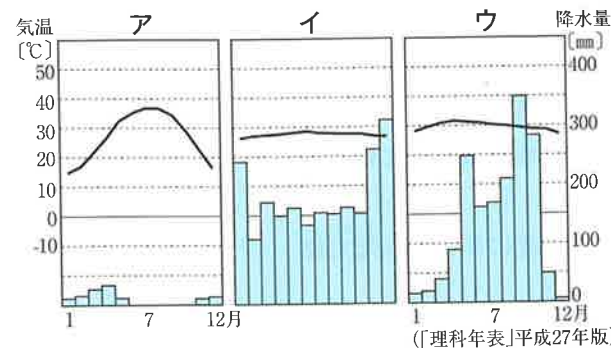
- (2) 地図中のAの地域について、次の各問いに答えなさい。

- ① この地域を何というか。
- ② この地域には、よく似た名前の国がある。この地域のいくつかの国名を表した右の□□□に共通して当てはまる文字を1文字ずつ書け。

カザフ□□□
ウズベキ□□□
トルクメニ□□□
タジキ□□□

- (3) 地図中のBの国について、次の各問いに答えなさい。

- ① この国名を書け。
- ② この国のほとんどの人が信仰している宗教名を書け。
- ③ この国の首都の雨温図を、次のア～ウから1つ選び、その記号を書け。



3 各3【27点】

(1)	①
(1)	②
(1)	③
(2)	A
(2)	B
(2)	C
(2)	D
(2)	E
(3)	

4 (3)③3、他各4【31点】

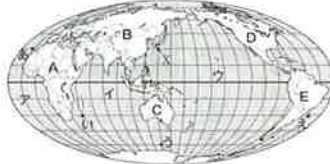
(1)	①
(1)	②
(1)	③
(2)	①
(2)	②
(3)	①
(3)	②
(3)	③

P.96

総合テスト(1)

●得点 /100

1 次の地図を見て、あとの各問に答えなさい。



- 1) 地図中のBの大陸名を挙げ。
- 2) 地球上で最も小さい大洋を、地図中のア～ウから1つ選び、その記号と大洋名を挙げ。
- 3) 赤道が通っている大陸が2つある。地図中のA～Eから2つ選び、その記号を挙げ。 **アフリカ大陸と南アメリカ大陸。**
- 4) 経緯0度の経線が通っている大陸が2つある。地図中のA～Eから2つ選び、その記号を挙げ。 **アフリカ大陸とユーラシア大陸。**
- 5) 地球上の陸地と海洋の面積の割合を、次のア～エから1つ選び、その記号を挙げ。 **地球は「水の惑星」ともよばれる。**
ア 2:8 イ 3:7 ウ 4:6 エ 6:4
- 6) 地図中のXは、北緯30度、東経135度の地点を示している。地球上でこの地点とちょうど反対側に位置する地点は、地図中のア～エのどれか。

1 (3)4順不同、各3[27点]

1) ユーラシア 大陸
2) イ
3) インド洋
4) A
5) E
6) A
7) B
8) イ
9) え

6) Xの対称地点は、南緯30度、西経45度の地点。

2 次の地図を見て、あとの各問に答えなさい。



- 1) 次の①～④の説明に当てはまる国(地域)を、地図中のア～エから1つずつ選び、その記号を挙げ。
 - ① 乾燥地帯に位置し、放牧をしながら、季節的に移動する遊牧民が多い。
 - ② 高地に位置し、寒さから体を守るために、重ね着をするなどしている。
 - ③ 多くが寒帯に位置しており、保温性のよいアザラシなどの毛皮を身につけて、寒さをしのいでいる。
 - ④ この国では、パスタとよばれる、小麦粉を水で練ってオリーブオイルやトマトソースで調理した料理が多く食べられている。
- 2) 地図中のエの国を南北に走っている山脈を何とよぶか。

2 各3[15点]

1) イ
2) エ
3) ウ
4) ア
5) アンドレス 山脈

- 1) ①モンゴルの説明。②中央アンデス高地が広がるペルーの説明。③イタリヤの説明。④イタリアの説明。スバゲッティやラザニア、マカロニを総称してパスタとよぶ。

P.97

総合テスト(2)

●得点 /100

3 右の地図を見て、次の各問に答えなさい。



- 1) 地図中の①～③の気候を、次のア～エから1つずつ選び、その記号を挙げ。
 - ア 雨が少なく、乾燥している。
 - イ 温暖で、夏に雨が降り、冬に雨が少なく、気温も低い。
 - ウ 雨が少なく、気温も低い。
 - エ 温暖で、冬に雨が降り、夏に雨が少なく、気温も低い。
- 2) 地図中の①～③の地域の農業について、次の文中の() A～Eに当てはまる語句を、あとの() から選んで書き入れ。
 - ① (A) 中心で、(B) やとうもろこし、大豆がとられている。
 - ② (C) がさかんで、茶や(D) もとられている。
 - ③ 羊やらくだなどの伝統的な(E) が行われている。

3 各3[27点]

1) ウ
2) イ
3) ア
4) 畑作
5) 小麦
6) 稲作
7) 綿花
8) 遊牧
9) 格差

4 右の地図を見て、次の各問に答えなさい。

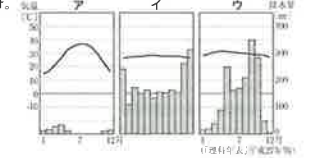


- 1) 地図中の①～③の国名を挙げ。
- 2) 地図中のAの地域について、次の各問に答えなさい。
 - ① この地域を何とよぶか。
 - ② この地域には、よく似た名前がある。この地域のいくつかの国名を表した右の□□□□に共通して当てはまる文字を1文字ずつ書き入れ。 [~の国] という意味。
- 3) 地図中のBの国について、次の各問に答えなさい。
 - ① この国名を挙げ。
 - ② この国のほとんどの人が信仰している宗教を挙げ。
 - ③ この国の首都の雨温図を、次のア～ウから1つ選び、その記号を挙げ。

4 (3)3、他各4 [31点]

1) トルコ
2) インドネシア
3) フィリピン
4) 中央アジア
5) スタン
6) サウジアラビア
7) イスラム教
8) ア

- 3) ②サウジアラビアにはイスラム教の聖地であるメッカがある。
- ③乾燥帯の雨温図を示している。



P.98

総合テスト(2)

●得点 /100

1 右の地図を見て、次の各問に答えなさい。



- 1) E U加盟国の共通の通貨を何とよぶか。
- 2) E U加盟国の中で最も小麦の生産量の多い国を、地図中のA～Hから1つ選び、その記号を挙げ。
- 3) 豊富な石炭とライン川の水上交通によって、ヨーロッパ最大の工業地域に発展したルール地方のある国を、地図中のA～Hから1つ選び、その記号を挙げ。
- 4) Fをふくむ半島には、氷河の浸食による湾や湖が多く見られる。この半島を何とよぶか。カタカナで書け。
- 5) 地図中のヨーロッパ西部の気候は、暖流と()の影響により、高緯度のわりには温暖である。()に当てはまる語句を挙げ。
- 6) E Uが発達したねらいは何か。次のア～ウから1つ選び、その記号を挙げ。
 - ア 軍力をつけて強い国になるため。
 - イ 経済面で大国と競争する力をもつため。
 - ウ 他地域との貿易をしなくてもすむようになるため。

1 各5[30点]

1) ユーロ
2) D
3) G
4) スカンディナ비아 半島
5) 偏西風
6) イ

- 2) 小麦の生産量は、多い方から順に、中国→インド→アメリカ→フランス(2012年)。
- 3) 暖流は北大西洋海流。偏西風は一年を通して西から東に吹く風。
- 4) 冷戦当時、アメリカとソ連の二大大国に対抗する形でEUの前身に当たるE C (ヨーロッパ共同体) が、1967年に結成された。

2 右の地図を見て、次の各問に答えなさい。



- 1) 赤道が通っている国を、地図中のア～オから1つ選び、その記号を挙げ。
- 2) コーヒーやカカオの生産が盛んな国を、地図中のア～オから1つ選び、その記号を挙げ。
- 3) アフリカ州には、希少な金属とされるプラチナやクロムなどの生産が盛んな国が多い。このような希少な金属の名称を、カタカナで書け。
- 4) 地図中のオの国ではかつて、白人が黒人など有色人種の職業や居住地を制限し、政治に参加させないという人種隔離政策が、1994年に廃止されるまで半世紀近く続いていた。この政策を何とよぶか。カタカナで書け。
- 5) アフリカ州の国々に多く見られる、植民地時代にひらかれた大規模農園を何とよぶか。

2 各5[25点]

1) E
2) イ
3) レアメタル
4) アパルトヘイト
5) プランテーション

- 3) コバルトはEのコンゴ民主共和国、クロムはオの南アフリカ共和国が世界生産量第1位をしめる。
- 4) 黒人に対する経済政策の遅れはいまだに問題となっている。

P.99

総合テスト(2)

●得点 /100

3 右の地図を見て、次の各問に答えなさい。



- 1) アメリカの州の特色について調べ、右の地図を作成した。次の①と②に当てはまる州を、地図中のア～オから1つずつ選び、その記号を挙げ。
 - ① この州では、棉花栽培がさかんに行われてきた。現在、州人口に占めるアフリカ系住民の比率が高いのは、この棉花栽培と関係があるようだ。
 - ② この州には広がる農場に大勢のヒスパニック系の人々が働いている。この州には、シリコンバレーとよばれるハイテク産業が集中する地区がある。
- 2) 地図中のXの地域では、1970年代以降に急速に工業が発達してきた。この地域を何とよぶか。カタカナで書け。
- 3) アメリカでの生産量が世界で最も多い農産物を、次のア～オから2つ選び、その記号を挙げ。
 - ア とうもろこし イ ジャガイモ ウ 大豆
 - エ 米 オ 小麦

3 (3)順不同、各4[20点]

1) E
2) ア
3) サンベルト
4) ア
5) ウ

- 1) ①Eはミシシッピ州。アメリカ南部の農園では、かつてアフリカ大陸から連れてこられた黒人の奴隷を使って棉花栽培が行われていた。
- ②Aはカリフォルニア州。シリコンバレーはサンフランシスコの近郊に位置する。

4 右の地図を見て、次の各問に答えなさい。



- 1) 地図中のAの島の名称を挙げ。
- 2) 地図中のBの島が属している都道府県の都道府県庁所在地を挙げ。
- 3) 地図中のCの島の周囲には、約() kmにわたって()が広がっている。()に当てはまる数字を、次のア～エから1つ選び、その記号を挙げ。また、()に当てはまる語句を挙げ。
 - ア 10 イ 40 ウ 140 エ 450
- 4) 地図中のXの緯線が通っている国として適切でないものを、次のア～エから1つ選び、その記号を挙げ。
 - ア ブラジル イ イタリア
 - ウ ブラジル イ イタリア
 - エ ブラジル イ イタリア
- 5) 地図中の東京が2月1日午前3時のとき、アメリカのニューヨークは何月何日何時になるか。ただし、ニューヨークは西経75度の経線を標準時区とする。

4 (3)5読解、各5[25点]

1) 南鳥島
2) 那覇市
3) イ
4) 排他的経済水域
5) ア

- 2) ②は与那国島で、沖縄県に属する。①南鳥島、③沖ノ鳥島は東京都に属する。
- ③日本の排他的経済水域と領海の合計は、約447万km²。

5) ニューヨークの時間は日本より、(135+75)÷15=14(時間)遅れている。

年表で確認しよう 1 近世の日本

◆年表中の()にあてはまる語句を記入しなさい。

世紀	時代	政治	経済・社会・文化	東アジア		欧米など
				中国	朝鮮	
15	戦国時代		種子島に④()伝来 キリスト教の伝来			大航海時代に突入 ①()がカリブの島に到達 ルターらの②() ③()船隊が世界一周を達成
		16	安土桃山時代	⑤()が安土城を築く 太閤検地が始まる ⑧()が関白に任命される ⑨()が出される 関ヶ原の戦い ⑩()が征夷大将軍に任命される ⑫()を定める →後に参勤交代が制度化 ⑬()一揆が起こる オランダ商館を⑭()に移す 鎖国体制が固まる ⑮()が第5代将軍になる 新井白石の政治 徳川吉宗の⑯()の改革 ⑰()が老中となる 松平定信の⑱()の改革 日本へ各国の船が来航 →⑳()が出る ㉑()が反乱を起こす 水野忠邦の㉒()の改革	⑥()文化がおこる →⑦()がわび茶を完成 兵農分離 ⑪()貿易 キリスト教徒への迫害 ⑯()文化がおこる ⑳()文化がおこる	明
17	江戸時代					
18						
19						

深めよう 1 近世の日本

1 歴史の中のイスラム文化

- イスラム教の拡大…ムハンマドの死後、後継者たちが領土を拡大。イスラム教の教えやコーランはアラビア語のみで、人種や民族がちがっても仲間として扱った。
- イスラム教とヨーロッパ文化(→①)
 - イスラム教国とキリスト教国の戦争。
 - 文化・学問…古代ギリシャの学問をイスラム世界は吸収し、発展。→西ヨーロッパに伝わる→ルネサンス。
- ヨーロッパとアジアの接点…アジアの紙や火薬、羅針盤などの新技術もイスラム世界で改良され、伝えられた。


2 江戸のエコ社会(→②)

- 着物…経済力に合わせて選ばれる。→リサイクル。
- 生活用品…鍋や釜の修理専門業者、傘の中古買い取り。→修理販売、紙くず収集・買い取り。
- わらの利用…俵、わらじ、肥料への活用。
- 肥料と衛生…金肥、し尿を使用→清潔な環境の維持。

1 イスラム世界で発展した学問や文化

数学	・アラビア数字が作られる。 ・インドが起源のゼロや小数を使用。
科学	・ろ過、蒸留の方法を発明。 ・フラスコが作られる。 ・光の屈折の法則を発見。 ・精密な太陽暦が作られる。
文学	・「アラビアン・ナイト」などの物語。
美術	・細密画、アラベスクがえがかれる。 ・じゅうたん、ガラスが作られる。
その他	・中国やインドから、紙、火薬、羅針盤、トランプ、チェスなどを取り入れる。 ・砂糖を使ったり、コーヒーを飲んだりする。

2 馬でし尿を集めにきた農民



確認問題

◆次の問いに答えなさい。

1 歴史の中のイスラム文化

- イスラム教を開いたのは、だれか。
- イスラム教の教えが書いてあるアラビア語の聖典を何というか。
- イスラム教国とキリスト教国が領土とするため、争った聖地はどこか。
- バグダッドを中心とするイスラム世界が吸収し、さらに発達させたのは、ヨーロッパのいつの時代の学問か。
- アジアからイスラム世界に伝わった代表的な新技術には、紙や火薬があるが、大航海時代で注目された技術を何というか。

2 江戸のエコ社会

- 古い傘を買い取り、傷んだ竹の骨を取りかえ、新しい油紙をはり直して再生した業者を何というか。
- 米作りの副産物であるわらを燃やした灰を肥料にするために買い取った業者を何というか。
- 都市近郊の農村で商品作物の生産が盛んになり、大量の肥料が必要となったため、都市の住民から買われたものは何か。

1

(1) _____

(2)

(2) _____

(3)

(3) _____

(4)

(4) _____

(5)

(5) _____

2

(1)

(1) _____

(2)

(2) _____

(3)

(3) _____

年表で確認しよう 2 開国と近代日本の歩み

◆年表中の()にあてはまる語句を記入しなさい。

世紀 時代	政治	経済・社会・文化	東アジア		欧米など
			中国	朝鮮	
17	江戸時代				イギリスの共和制の改革 →①()革命 ②()革命 →「権利章典」を制定 アメリカがイギリスからの ③()を起こす ④() →「人権宣言」を発表 ⑤()戦争 →太平天国の乱
18					
19	江戸時代	ペリーが浦賀に来航 →⑥()条約, ⑦()条 約が結ばれる ⑨()同盟の成立 徳川慶喜が⑩() を行う →⑪()の大号令 ⑫()が始まる ⑬()の御誓文が出る 版籍奉還→⑭() が行われ、中央集権国家の 基礎を築く 学制・税制・兵制が整えられる ⑮()政策→官営 模範工場が造られる 西郷隆盛らの⑯() ⑰()が発 布される ⑱()戦争→下関条約 →三国干渉	清	朝鮮	アメリカで⑧()戦争 が起きる
					19
20	明治時代				⑲()戦争 →ポーツマス条約 近代文化の形成 八幡製鉄所が操業
				大韓帝国(韓国)	

深めよう 2 開国と近代日本の歩み

1 「解放令」から水平社へ

- 解放令…1871年、えた・ひにんという身分の呼び名を廃止し、身分や職業も平民と同じとする布告。
- 皮革産業…江戸時代まで被差別部落の主要産業→「身分職業共平民同様」(解放令)により大商人が巨大資金力で参入。→被差別部落の皮革産業の衰退。(→①)
- 生活環境の悪化…松方財政(経済政策)による増税。→多くの人々が税の支払いに苦しむ。
- 部落改善運動…被差別部落内部からの運動だが、反発が起きる。→全国水平社の結成。
- 「破戒」…1906年刊行。部落差別の問題をテーマとした島崎藤村の作品。(→②)

① 近代的なくつの製造



2 足尾銅山と田中正造(→③)

- 足尾銅山…近代の技術で国内最大の産出量。→鉱毒による公害の発生。→1890年の洪水により社会問題となる。
- 田中正造…衆議院議員(栃木県)が議会で政府を追及。→損害賠償や銅山の操業停止を求める運動。
各種防止策が解決されたのは1956年(昭和31)

② 島崎藤村



③ 田中正造



確認問題

◆次の問いに答えなさい。

1 「解放令」から水平社へ

- 1871年、えた・ひにんという身分の呼び名を廃止し、身分や職業も平民と同じとする布告を何というか。
- 被差別部落で暮らす人々の生活をより苦しめた1880年代の財政政策を何というか。
- 部落改善運動の反発などから、後に京都で結成された組織を何というか。
- 島崎藤村が書いた、部落差別の実態に光を当てた作品は何か。

1

(1) _____

(2)

(2) _____

(3)

(3) _____

(4)

(4) _____

2 足尾銅山と田中正造

- 明治時代初期、近代技術により国内最大の銅の産出量をほこったところはどこか。
- (1)の鉱毒事件を社会問題として取り上げた衆議院議員はだれか。
- 鉱毒事件などの広範囲の社会環境問題を何というか。

2

(1) _____

(2)

(2) _____

(3)

(3) _____

5 産業の発達と幕府政治の動き(2)

p.26~31

p.27 確認問題

- 1** (1) 享保の改革 (2) 公事方御定書
 (3) 工場制手工業 (マニファクチュア)
 (4) 百姓一揆
- 2** (1) 田沼意次 (2) 天明のききん
 (3) 松平定信 (4) 寛政の改革 (5) ロシア
- 3** (1) 本居宣長 (2) 蘭学
 (3) 伊能忠敬 (4) 化政
- 4** (1) 異国船打払令 (2) 大塩平八郎
 (3) 水野忠邦 (4) 天保の改革

p.28~29 練習問題

- 1** (1) ① 徳川吉宗 ② 目安箱
 ③ 上げ米の制 ④ 百姓一揆
 ⑤ 打ちこわし ⑥ 公事方御定書
 (2) キリスト教 (3) 参勤交代
 (4) ① 間屋制家内工業
 ② 工場制手工業 (マニファクチュア)
- 2** (1) ① 株仲間 ② 銅 ③ 蝦夷地
 ④ 松平定信 ⑤ 米
 ⑥ 商品作物 ⑦ 昌平坂学問所
 (2) 朱子学
 (3) A イ B ウ B
- 3** (1) ① 本居宣長 ② 杉田玄白
 ③ 伊能忠敬
 (2) ① 化政
 ② A 東洲斎写楽 B 喜多川歌麿
 C 葛飾北斎 D 十返舎一九
 E 滝沢馬琴 F 与謝蕪村
 (3) ① 私塾 ② 藩校 ③ 寺子屋
- 4** (1) 異国船打払令 (2) 大塩平八郎
 (3) 高野長英 渡辺崋山 (順不同)
 (4) 天保の改革 (5) 雄藩

●解説●

- 1** (1) ① 5代将軍徳川綱吉のころからの財政難を、徳川吉宗は享保の改革により一時的に立て直した。
- 2** (1) ① 株仲間に特権をあたえることで営業税を取った。
- 3** (1) ① 本居宣長は、国学者として「古事記」を研究して「古事記伝」を著し、国学を大成させた。
 (2) ① 化政文化は、文化・文政年間に江戸を中心に、庶民がにない手となって発展した文化である。
- 4** (1) 19世紀になるとロシアだけでなく、イギリスやアメリカの船も日本に近づくようになっていた。
 (2) 大塩平八郎は天保のききんに苦しむ人々に米や金を分けるために、弟子ら300人ほどで大商人をおそった。
 (4) 政治批判や風紀を取りしめ、物価の上昇をおさえるため株仲間を解散させた。

p.30 定期テスト予想問題 必修

- 1** (1) ① 徳川吉宗 ② 享保
 ③ 田沼意次 ④ 天明
 ⑤ 寛政 ⑥ 異国船打払令
 ⑦ 天保 ⑧ 大塩
 ⑨ 天保
 (2) 公事方御定書
 (3) 高野長英 渡辺崋山 (順不同)
- 2** (1) ① 小作人 ② 地主
 ③ 間屋制家内工業
 ④ 工場制手工業 (マニファクチュア)
 (2) 百姓一揆
- 3** (1) ① 本居宣長 ② 杉田玄白
 ③ 歌川広重 ④ 藩校 ⑤ 寺子屋
 (2) オランダ語

●解説●

- 1** (1) ① 米の値段の安定に努め「米將軍」と呼ばれた。
 ② 享保の改革では、キリスト教に関係しない科学技術などの、漢訳されたヨーロッパの書物の輸入を認めた。
 ③ 田沼意次は、貿易を奨励し、新しい輸出品の開発などの商工業に力を入れた。
 ⑤ 松平定信は、祖父徳川吉宗の政治を理想として寛政の改革を行った。
 ⑨ 天保の改革を行った水野忠邦は、アヘン戦争の結果を知り、異国船打払令をやめさせた。
- 2** (2) 都市部では、米の買いしめをした商人に対する打ちこわしが起こった。
- 3** (1) ⑤ 学者による私塾では、武士だけでなく町人や百姓の入門を許した。緒方洪庵の適塾、医者シーボルトの医学塾などがあげられる。

p.31 定期テスト予想問題 完成

- 1** (1) ① 昌平坂学問所 ② 札差 ③ 銅
 ④ 上げ米 ⑤ 目安箱
 ⑥ 儉約令 ⑦ 幕領
 (2) C (→) B (→) A (→) D
 (3) (例) 物価の上昇をふせぐため。
 (4) イ
- 2** (1) ① 葛飾北斎 ② イ
 (2) 喜多川歌麿 (3) ア
 (4) (例) 江戸を中心に庶民をにない手として発展した文化。

●解説●

- 1** (4) 経済力をつけた雄藩は、政治的な発言力を持つようになった。
- 2** (3) 「東海道中膝栗毛」は十返舎一九の著したこっけい本である。松尾芭蕉は元禄文化の俳人であり、化政期に俳諧(俳句)で絵のように風景を表現したのは、与謝蕪村である。

年表で確認しよう①/深めよう① 近世の日本

p.32~33

p.32 年表で確認しよう

- ① コロンブス ② 宗教改革 ③ マゼラン
 ④ 鉄砲 ⑤ 織田信長 ⑥ 桃山
 ⑦ 千利休 ⑧ 豊臣秀吉 ⑨ 刀狩令
 ⑩ 徳川家康 ⑪ 朱印船 ⑫ 武家諸法度
 ⑬ 高原・天草 ⑭ 出島 ⑮ 徳川綱吉
 ⑯ 元禄 ⑰ 享保 ⑱ 田沼意次 ⑲ 寛政
 ⑳ 化政 ㉑ 異国船打払令 ㉒ 大塩平八郎
 ㉓ 天保

p.33 確認問題

- 1** (1) ムハンマド (2) コーラン
 (3) エルサレム (4) 古代ギリシャ
 (5) 羅針盤
- 2** (1) 古傘買い (2) 灰買い (3) し尿

6 欧米の進出と日本の開国(1)

p.34~39

p.35 確認問題

- 1** (1) ピューリタン革命 (2) 名誉革命
 (3) ワシントン (4) 啓蒙思想 (5) 絶対王政
 (6) 人権宣言 (7) ナポレオン
- 2** (1) 産業革命 (2) 資本主義
 (3) 社会主義 (4) ビスマルク
- 3** (1) 南下政策 (2) 南北戦争
 (3) リンカン
- 4** (1) 三角貿易 (2) 南京条約
 (3) インド大反乱

p.36~37 練習問題

- 1** (1) ① クロムウェル ② 独立宣言
 ③ 合衆国憲法 ④ ワシントン
 (2) A ピューリタン B 名誉
 (3) ① ロック ② モンテスキュー
 ③ ルソー
 (4) ① 絶対王政 ② フランス
 ③ 人権宣言 ④ ナポレオン
- 2** (1) ① 蒸気機関 ② 産業革命
 ③ 資本主義 ④ 社会主義
 (2) ビスマルク
- 3** (1) ① 専制 ② 南下
 ③ 南北戦争 ④ リンカン
 ⑤ 資本主義 ⑥ 人種差別
 (2) あ 資本家 い 大農場主 う 保護貿易
 え 自由貿易 お 反対 か 賛成
- 4** (1) A イギリス B 中国(清) C インド
 (2) アヘン戦争 (3) 南京条約
 (4) 太平天国の乱 (5) インド大反乱
 (6) ① 綿織物 ② 皇帝 ③ 植民地

●解説●

- 1** (1) ② 独立宣言を発表した植民地は、フランスの支援を受けて、イギリスとの独立戦争に勝利した。
 ③ 合衆国憲法は、人民主権、連邦制、三権分立を柱とした。
- 2** (1) ①・② イギリスの技術者ワットが蒸気機関を改良したことで、動力として広く蒸気機関が使われるようになり、イギリスの工業が発展した。
- 3** (1) ③ 保護貿易と奴隷制の賛成を主張する北部と、自由貿易と奴隷制の賛成を主張する南部が対立し、南北戦争が始まった。
- 4** (2) イギリスが三角貿易によって清に持ちこんだアヘンが原因で、アヘン戦争が起こった。
 (3) 南京条約により、イギリスは清に上海などの5港を開港させるとともに、香港を手に入れ、賠償金も支払わせた。

p.62 定期テスト予想問題 必修

- 1** (1) ① イギリス ② ノルマントン号
③ 甲午農民 ④ 陸奥宗光
⑤ 下関条約 ⑥ 義和団
⑦ 立憲政友会
(2) 小村寿太郎
(3) 外交政策 欧化政策 外務大臣 井上馨
(4) フランス ドイツ (順不同)
- 2** (1) ① 大韓帝国 (韓国)
② 幸徳秋水 ③ 内村鑑三
(2) 帝国主義 (3) 日英同盟
(4) 国 アメリカ 条約 ポーツマス条約

●解説●

- 1** (1) ① 大日本帝国憲法制定により立憲制国家が成立したなどによって、イギリスも条約改正の交渉に応じるようになった。
② イギリス船が沈没し、日本人乗客全員が死亡した事件は、イギリス領事裁判所での裁判で、イギリス人船長に軽いばつがあたえられただけだった。
③ 甲午農民戦争では農民軍が腐敗した役人追放や外国人排除を目指した。
⑥ 義和団事件は「扶清滅洋 (清を扶けて外国勢力をうち滅ぼす)」を唱えた義和団の蜂起から清が列強に宣戦布告をした事件で、列強連合軍に鎮圧された。
(4) 三国干渉を行ったのは、ロシア、フランス、ドイツで、日本が獲得した遼東半島の清への返還を勧告した。ロシアは返還された遼東半島の旅順と大連を租借した。

p.63 定期テスト予想問題 完成

- 1** (1) ① (例) 不平等条約の改正を求める世論が高まった。
② 朝鮮 ③ イ ④ 三国干渉
(2) ① イギリス
② 日本 (例) 戦力が限界に達していたため。ロシア (例) 国内で革命運動が起きたため。
③ ウ
④ (例) 戦争の犠牲や戦費の増大により国民の負担が増えたにもかかわらず、賠償金が得られなかったから。

●解説●

- 1** (2) ① イギリスは、清での利権確保に日本の軍事力を利用しようと日英同盟を結んだ。アメリカも満州をめぐってロシアと対立していたため、日本の戦費の調達を支援した。
④ 国民は賠償金が得られないなど、日本の得た権益が少なかったことに不満を持った。

11 日清・日露戦争と近代産業(2)

p.64~69

p.65 確認問題

- 1** (1) 伊藤博文 (2) 朝鮮総督府
(3) 南満州鉄道株式会社 (満鉄) (4) 孫文
(5) 辛亥革命 (6) 南京 (7) 袁世凱
- 2** (1) 産業革命 (2) アメリカ (3) 八幡製鉄所
(4) 労働組合 (5) 工場法 (6) 財閥
- 3** (1) 黒田清輝 (2) 樋口一葉 (3) 6年
(4) 野口英世

p.66~67 練習問題

- 1** (1) ① 韓国統監府 ② 伊藤博文
③ 南満州鉄道 ④ 朝鮮総督府
(2) 義兵運動
(3) ① 京城
② 同化
- 2** (1) ① 孫文 ② 三民主義
(2) ① 辛亥革命 ② 中華民国
③ 南京
(3) ① 袁世凱 ② 北京
- 3** (1) ① アメリカ ② 石炭 ③ 東海道線
④ 財閥 ⑤ くわ
(2) ① 工女
② A 労働組合 B 労働争議
C 工場法
(3) 八幡製鉄所
(4) A 小作人 B 地主
- 4** (1) A 横山大観 B 黒田清輝
C 滝廉太郎 D 樋口一葉
E 夏目漱石 F 森鷗外
G 北里柴三郎 H 野口英世
(2) 97 (3) 6

●解説●

- 1** (1) ① 韓国を日本の保護国にして外交権をうばい、韓国統監府を置いた。
(3) ① 漢城 (ソウル) を京城と改称させた。
- 2** (2) 1911年、武昌 (武漢) で起きた軍隊の反乱をきっかけに革命運動は全国に広がり、多くの省が清からの独立を宣言した。1912年、孫文が臨時大総統になりアジア最初の共和国である中華民国が建国された。
- 3** (1) 1886年ごろから紡績・製糸などの軽工業が発展し、産業革命の時代をむかえた。
(2) ② 紡績で1日12時間、製糸で14~18時間の厳しい労働をしていた。

p.68 定期テスト予想問題 必修

- 1** (1) ① 韓国統監府 ② 伊藤博文
③ 南満州鉄道 ④ 義兵運動
⑤ 朝鮮総督府 ⑥ 辛亥革命
⑦ 中華民国
(2) A 朝鮮 B 京城
(3) ① 三民主義 ② 袁世凱
- 2** (1) ① 石炭 ② 八幡製鉄所
③ 労働組合 ④ 労働争議
(2) 紡績 製糸 (順不同)
(3) 東海道線 (4) 財閥 (5) 田中正造
(6) A 黒田清輝 B 樋口一葉
C 夏目漱石 D 森鷗外 E 野口英世

●解説●

- 1** (1) ① 1905年に日本は韓国の外交権をうばって、保護国とし、韓国統監府を設置した。
③ 南満州鉄道株式会社は半官半民で設立され、鉄道を中心に炭鉱開発や製鉄所建設、沿線の都市建設などを進めた。
⑥ 辛亥革命は長江中流域の武昌 (武漢) で起きた軍隊による反乱から、全国に広がった革命運動で、各省が独立宣言し、共和国を建国した。
(3) ② 袁世凱は清の皇帝を退位させ清をほろぼした。大総統になると首都を北京に移し、独裁的な政治を行った。袁世凱の死後、中国は各地で勢力を持つ軍閥によって、ばらばらに支配された。
- 2** (1) ① 石炭の採掘は九州北部の筑豊地域や北海道で主に行われた。
④ 労働運動と共に社会主義運動が活発となったが、弾圧された。1910年、天皇暗殺を計画したとして、社会主義者が逮捕され12人が処刑された (大逆事件)。
(6) アメリカ人のフェノロサが岡倉天心と協力して日本の美術の復興に努め、日本の伝統の価値が見直された。文学では、言文一致が新しい表現として広まり、ロマン主義の女流作家や自然主義の作家が活躍した。

p.69 定期テスト予想問題 完成

- 1** (1) (例) 日本人に同化させる教育。
(2) ① 民族 ② 民主化 ③ 民衆
(3) ① 1897
② (例) 朝鮮や中国などのアジア諸国。
③ (例) 低賃金で長時間労働をさせられた。
(4) ① 黒田清輝
② A イ B ア C ウ
(5) ① 学制 ② イ

●解説●

- 1** (5) ② 小学校の就学率が1907年に97%となり、義務教育期間が6年に延長され、小学校以上の中・高等教育も拡充された。また女子教育も重視された。

年表で確認しよう②/深めよう② 開国と近代日本の歩み

p.70~71

p.70 年表で確認しよう

- ① ピューリタン ② 名誉 ③ 独立戦争
④ フランス革命 ⑤ アヘン ⑥ 日米和親
⑦ 日米修好通商 ⑧ 南北 ⑨ 薩長
⑩ 大政奉還 ⑪ 王政復古 ⑫ 戊辰戦争
⑬ 五箇条 ⑭ 廃藩置県 ⑮ 殖産興業
⑯ 西南戦争 ⑰ 文明開化 ⑱ 大日本帝国憲法
⑲ 日清 ⑳ 日英 ㉑ 日露

p.71 確認問題

- 1** (1) 解放令 (2) 松方財政
(3) 全国水平社 (4) 破戒
2 (1) 足尾銅山 (2) 田中正造 (3) 公害

年表で確認しよう 1 古代までの日本

◆年表中の()にあてはまる語句を記入しなさい。

世紀	時代	政治	経済・社会・文化	東アジア		欧米など
				中国	朝鮮	
5000年前	縄文時代		日本列島ができる ①()文化がおこる →土器を使用する →②()住居に住む	殷・周		古代文明が各地でおこる →⑥()文明 …ナイル川流域 →メソポタミア文明 →⑦()文明 …インダス川流域
前4	弥生時代	小国が分立する 奴国の王が	③()文化がおこる →稲作が始まる →青銅器などの	秦・漢	高句麗・百濟・新羅	ギリシャで都市国家が成立 仏教がおこる
1		④()を授かる	⑤()の使用が始まる			ローマ帝国が成立 キリスト教がおこる
2		邪馬台国の⑧() が魏に使いを送る	古墳文化がおこる →さまざまな形の			魏・呉・蜀
3	古墳時代	⑨()政権の成立	⑩()が置かれる 大陸文化が伝来する →⑪()が須恵器 や漢字などを伝える	南北朝	隋	
4		⑨()政権の王が ⑫()と呼ばれる	⑬()文化がおこる …日本で最初の仏教文化			
5		⑬()の政治 →十七条の憲法 遣唐使の派遣 大化の改新	⑭()文化がおこる …国際的な仏教文化 →東大寺・東大寺の大仏			
6	飛鳥時代	→⑮()や 中臣鎌足が政権をとる		唐	新羅の統一	イスラム教がおこる
7		律令国家が成立する 奈良の⑯() に都が移る 京都の⑰()	⑱()文化がおこる →仮名文字・大和絵など →浄土信仰			高麗
8	奈良時代			宋		
9	平安時代	に都が移る 遣唐使が停止				
10		藤原氏の⑲()政治				

深めよう 1 古代までの日本

1 現代に受けつがれる神話

- 「記紀神話」の成立…神話が朝廷によって、8世紀に「古事記」「日本書紀」としてまとめられる。また各地に残る「風土記」にも、神話や伝説が収められている。
- 「記紀神話」の展開…オオクニヌシがアマテラスの子孫に日本を治める権利をゆずる話や、天皇がアマテラスの子孫であり、国を治めるようになった経緯などが記されているほか、大蛇退治などの物語も収められ、神楽などの伝統芸能の題材にもなっている。(→①, ②, ③)
- 日本の神話と世界の神話…記紀の神話は世界各地の神話と似た部分があり、古代の人々の考え方がうかがえる。

2 考古学のとびら

- 「もの」の年代を推定する
 - 地層と出土品から推定する…地層の年代や、ほかの地域の同じような出土品から推定する。(→④)
 - 放射性炭素年代測定法…動植物の遺物に残る炭素14の量を調べる。
普段の量は一定だが、生物の死後減少し始める
- 年輪の活用…樹木の年輪のはばは気温や降水量によって変わるため、特定の地域での年輪のはばの変化と、樹皮の部分が残っている木材の年輪のはばの変化を見比べる→木材がいつ切られたのかがわかる。

1 式年遷宮が行われた伊勢神宮



2 出雲大社の復元模型



3 大蛇退治を題材にした佐陀神能



4 火山の噴火の跡がわかる地層



確認問題

◆次の問いに答えなさい。

1 現代に受けつがれる神話

- 日本の神話や伝説が収められている「古事記」と「日本書紀」を合わせて何というか。(1) _____
- 日本各地に残る、記紀とは異なる伝説が記されたものを何というか。(2) _____

2 考古学のとびら

- 発掘された「もの」がいつごろのものかを推定する際、地層のほかは何を見て推定することができるか。(1) _____
- 遺物に残る炭素14の量で年代を推定する方法を何というか。(2) _____
- (1)(2)以外に、木材から年代を推定する方法があるが、これは木材の何を見て推定するものか。(3) _____

年表で確認しよう 2 中世の日本

◆年表中の()にあてはまる語句を記入しなさい。

世紀	時代	政治	経済・社会・文化	東アジア		欧米など
				中国	朝鮮	
11	平安時代	武士の成長 白河上皇が①()を始める		宋(北宋)		
		②()・()の乱 →平清盛が③()となる				
12	鎌倉時代	源平の争乱 源頼朝が各地に④()を置き、 ⑥()に任命される →⑧()との間に御恩と奉公の関係	農業→⑤()が行われる ⑦()が開かれる ⑨()文化 →兼好法師⑩() 運慶作⑪() →法然による⑭()などの新しい仏教	宋(南宋)	金	
		北条氏の⑫()政治 →⑬()の制定			高麗	チンギス・ハンがモンゴルを統一→モンゴル帝国 ⑮()が国号を元と改める
13	室町時代	元軍が襲来する⑯() 後醍醐天皇が⑰()を始める ⑱()が室町幕府を開く			元	
		第3代将軍⑲()が南北朝を統一する	⑳()文化 →金閣、能・狂言 ㉑()貿易			朝鮮国が建国される
15	戦国時代	第8代将軍㉒()のとき㉓()の乱が起こる	㉔()文化 →銀閣の㉕()、水墨画		明	朝鮮

深めよう 2 中世の日本

1 東アジア世界の朝貢体制と琉球王国

- 朝貢…周辺諸国の支配者が中国に使節を送り、貢ぎ物を差し出す制度。代わりに支配者としての地位を認めてもらい、絹や銅銭などを得ることができた。
- 日本の朝貢
 - 古代の日本…奴国や邪馬台国のころから朝貢を実施。中国を見本にした国家体制を整える。
 - 室町幕府…足利義満が明に使者を送り、日明貿易で利益を得た。
- 琉球王国…中山王尚氏が琉球を統一。都は首里。中継貿易で繁栄し、明や清と朝貢関係を築く。(→1)


1 琉球王国から江戸幕府への使節



2 室町時代の生活文化と現代

- 衣…庶民は小袖を着用。簡素な服装を好む。(→2)
- 食…禅宗の精進料理の影響。茶の湯の文化が広まる。
- 住…部屋にたたみをしき、床の間を設ける住宅が広まる。

2 室町時代の庶民の生活



確認問題

◆次の問いに答えなさい。

1 東アジア世界の朝貢体制と琉球王国

- 中国の皇帝にその地域の支配者としての地位を認めてもらうために、皇帝へ貢ぎ物を差し出す制度を何というか。
- 14世紀、中国の皇帝から日本国王として待遇された室町幕府の将軍はだれか。
- (2)の人物が中国と始めた貿易を何というか。
- 15世紀初めに尚氏が統一し、都を首里に定めた国を何というか。
- (4)が行った、東南アジアの産物を明や朝鮮、日本にもたらす貿易を何というか。

2 室町時代の生活文化と現代

- 現在の和服の原型で、室町時代に一般的な服として着られるようになった服装を何というか。
- 鎌倉時代に茶西が中国から持ちこみ、室町時代に庶民の間に広まった茶を飲む習慣を何というか。
- たたみをしき、床の間を用いる建物の造りを何というか。

1

(1) _____

(2) _____

(3) _____

(4) _____

(5) _____

2

(1) _____

(2) _____

(3) _____

p.38 定期テスト予想問題 必修

- 1** (1) ① 平安京 ② 摂関
③ 浄土
(2) 征夷大將軍
(3) 最澄 天台宗 空海 真言宗 (完答)
(4) 菅原道真
(5) ① 天皇 ② きさき
(6) A 唐 B 高麗 C 宋
- 2** (1) ① 古今和歌集 ② 源氏物語
③ 紫式部 ④ 枕草子
⑤ 清少納言 ⑥ 大和絵
(2) ウ

●解説●

- 1** (1) ① 桓武天皇は784年に都を長岡京に移したのち、794年に都を平安京に移した。
② 藤原氏は娘を天皇のきさきにしてその子を天皇に立て、摂政、関白の地位を独占して政治の実権をにぎった。
③ 社会の乱れを背景に、念仏を唱えて、死後に極楽浄土に生まれ変わることを願う浄土信仰が広まった。
(3) 最澄と空海が伝えた新しい仏教は、貴族たちに広く受け入れられた。
- 2** (1) ⑥ 大和絵はのちの日本画の基になった。

p.39 定期テスト予想問題 完成

- 1** (1) ① イ
② (例) 唐がおとろえたから。
(例) 唐へわたるのが危険だったから。
(順不同)
(2) ① (例) 強い権力を持ち、栄華を極めていた。
② (例) 自分の娘を天皇のきさきにし、その子を次の天皇とした。
- 2** (1) ① 仮名文字 ② 国風文化
③ (例) 日本の風土や生活に合った文化。
(2) ア

●解説●

- 1** (1) ① 遣唐使が停止されたのは894年である。
② このころの唐は、国内で反乱が次々に起こり、急速におとろえていた。また、当時の航海技術は高いものではなかったため、唐への航海には多くの危険がともない、失敗することもあった。
(2) 自分の娘の子が天皇となったとき、その天皇が幼少のときは摂政、成人してからは関白として政治の実権をにぎった。
2 (2) イは奈良時代、ウは飛鳥時代のことについて述べた文である。

年表で確認しよう①/深めよう① 古代までの日本

p.40~41

p.40 年表で確認しよう

- ① 縄文 ② たて穴 ③ 弥生 ④ 金印
⑤ 金属器 ⑥ エジプト ⑦ インダス
⑧ 卑弥呼 ⑨ 大和 ⑩ 埴輪 ⑪ 渡来人
⑫ 大王 ⑬ 聖徳太子(厩戸皇子) ⑭ 飛鳥
⑮ 中大兄皇子 ⑯ 平城京 ⑰ 天平
⑱ 平安京 ⑲ 国風 ⑳ 撰関

p.41 確認問題

- 1** (1) 記紀 (2) 風土記
2 (1) 出土品 (2) 放射性炭素年代測定法
(3) 年輪

7 武士の台頭と鎌倉幕府

p.42~49

p.43・45 確認問題

- 1** (1) 武士団 (2) 藤原純友 (3) 平氏
(4) 奥州藤原 (5) 荘園
2 (1) 院政 (2) 平治の乱
(3) 平清盛 (4) 山口
3 (1) 源頼朝 (2) 守護 (3) 御家人
(4) 奉公 (5) 後鳥羽上皇
(6) 六波羅探題 (7) 御成敗式目(貞永式目)
4 (1) 弓馬 (2) 二毛作 (3) 定期市
5 (1) 新古今和歌集 (2) 平家物語
(3) 徒然草 (4) 金剛力士像
(5) 法然
(6) 人名 親鸞 宗派 浄土真宗
(7) 時宗
(8) 人名 日蓮 宗派 日蓮宗(法華宗)
(9) 栄西 (10) 道元
(11) 禅宗 (12) 神仏習合

p.46~47 練習問題

- 1** (1) ① 領主 ② 農民 ③ 年貢
(2) 武士団 (3) 奥州藤原
(4) 平将門
2 (1) ① 白河 ② 保元 ③ 平治
(2) 院政 (3) 平清盛 (4) ア
3 (1) ① 源頼朝 ② 征夷大將軍
③ 1221 ④ 御成敗式目(貞永式目)
(2) ① 御恩 ② 北条
(3) ① 後鳥羽上皇 ② 六波羅探題
4 (1) 下地中分
(2) ① 弓馬 ② 惣領
(3) ① 二毛作 ② 鍛冶屋
③ 紺屋 ④ 定期市
5 (1) 新古今和歌集
(2) 彫刻 金剛力士像 作者 運慶
(3) 軍記物 平家物語 名称 琵琶法師
(4) ① 法然 ② 親鸞 ③ 禅宗
④ 座禅

●解説●

- 2** (2) 白河天皇は退位した後も上皇として権力を持ち、摂政や関白の力をおさえて、政治を行った。この政治は、上皇やその住まいが「院」と呼ばれたので院政と呼ばれる。
4 (2) 武士の館は板ぶきの簡素な屋敷で、質素な生活を送る者もいたが、なかには幕府や天皇の警備などにあたり、豊かな生活を送る武士もいた。

p.48 定期テスト予想問題 必修

- 1** (1) ① 院政 ② 太政大臣 ③ 1185
④ 守護 ⑤ 地頭 ⑥ 征夷大將軍
⑦ 1221 ⑧ 御成敗式目(貞永式目)
(4), (5)は順不同)
(2) 奥州藤原
(3) ① あ 執権 い 侍所
う 六波羅探題
② 御家人 ③ 御恩
(4) 後鳥羽上皇 (5) 二毛作
2 (1) ① 金剛力士像 ② 運慶 ③ 平家物語
④ 琵琶法師 ⑤ 徒然草
(2) ウ

●解説●

- 1** (1) ⑧ 御成敗式目(貞永式目)は執権の北条泰時が定めたものであり、武士の社会で行われていた慣習を基にして、評定での判断の基準を定めた。朝廷とは別の独自の法律を制定したことで武士は自信を持ち、長く武士の法律の見本となった。
(2) 奥州藤原氏は初代の清衡が平泉に中尊寺金色堂を建立するなど、清衡・基衡・秀衡の3代にわたり栄華を極めたが、4代泰衡の時代に源義経をかくまったとして、源頼朝にほろぼされた。
(4) 承久の乱ののち、朝廷を監視するために六波羅探題が置かれた。
2 (2) アの法然は浄土宗、イの一遍は時宗の開祖である。

p.49 定期テスト予想問題 完成

- 1** (1) ① 院政 ② 平治の乱 ③ 平清盛
④ 太政大臣 ⑤ 宋 ⑥ 源頼朝
⑦ 征夷大將軍
(2) 平将門
(3) 中尊寺金色堂
(4) ① (例) 御家人が所有している領地を保護し、新しい領地をあたえた。
② (例) 京都に置かれ、朝廷を監視した。
(5) イ
(6) ① 時宗 ② 平家物語

●解説●

- 1** (1) ② 京都で起こった、政治の実権をめぐる二つの乱は、権力者に味方した武士どうしの戦いによって決着した。そのため、武士が政治において大きな力を持つようになった。
⑥ 平治の乱で敗北した源頼朝は伊豆に流刑となっていたが、平氏の政治に不満を覚える武士を集め、鎌倉を本拠地として挙兵した。
(6) ① 一遍は、念仏の札を配ったり、踊りを取り入れたりするなどの工夫をこらした布教活動をした。
② 平家物語は盲目の琵琶法師が各地をめぐる語りであったため、多くの人々に知られるようになった。

年表で確認しよう② / 深めよう② 中世の日本

p.62~63

p.62 年表で確認しよう

- ① 院政 (いんせい) ② 保元・平治 (ほうげん・へいじ) ③ 太政大臣 (たいじうだいじん)
- ④ 守護・地頭 (しゆご・じとう) ⑤ 二毛作 (にもうさく) ⑥ 征夷大將軍 (せいいたいしうぐん)
- ⑦ 定期市 (ていまいち) ⑧ 御家人 (ごけにん) ⑨ 鎌倉 (かまくら) ⑩ 徒然草 (つれづれぐさ)
- ⑪ 執権 (しつけん) ⑫ 金剛力士像 (こんこうりきしぞう) ⑬ 御成敗式目 (貞永式目) (ごせいばいしきもく (じやうえいしきもく)) ⑭ 浄土宗 (じうどしう)
- ⑮ フビライ・ハン (ふらいはん) ⑯ 元寇 (げんこう) ⑰ 建武の新政 (けんむしんせい) ⑱ 足利尊氏 (あしかがたかうじ) ⑲ 足利義満 (あしかがよしみつ)
- ⑳ 北山 (きたやま) ㉑ 日明 (勘合) (にちみん (かんごう)) ㉒ 足利義政 (あしかがよしまさ)
- ㉓ 東山 (とうざん) ㉔ 応仁 (おうにん) ㉕ 書院造 (しよいんぞう)

p.63 確認問題

- ① (1) 朝貢 (ちゆうこう) (2) 足利義満 (あしかがよしみつ) (3) 日明(勘合)貿易 (にちみんかんごうばいぎ)
- (4) 琉球王国 (りゅうきゅうおうこく) (5) 中継貿易 (なかつぎばいぎ)
- ② (1) 小袖 (こそで) (2) 茶の湯 (ちやのゆ) (3) 書院造 (しよいんぞう)