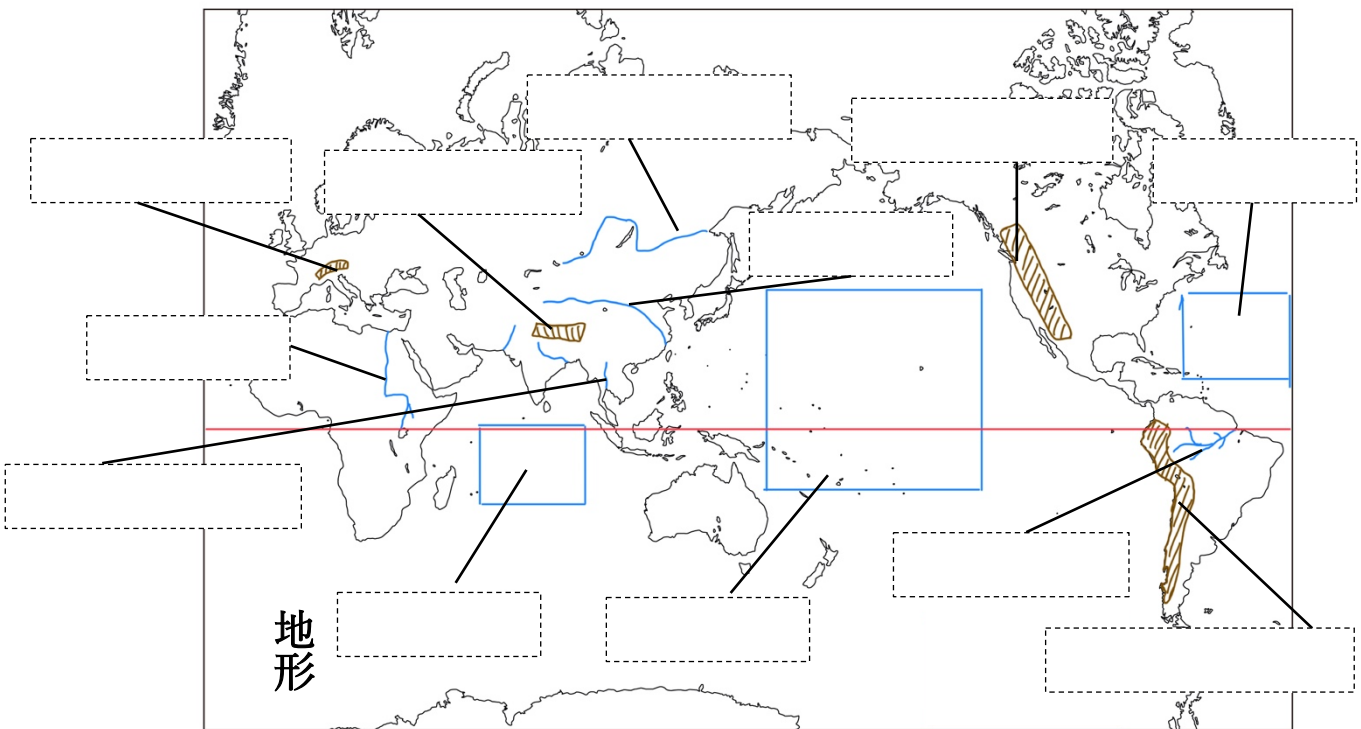
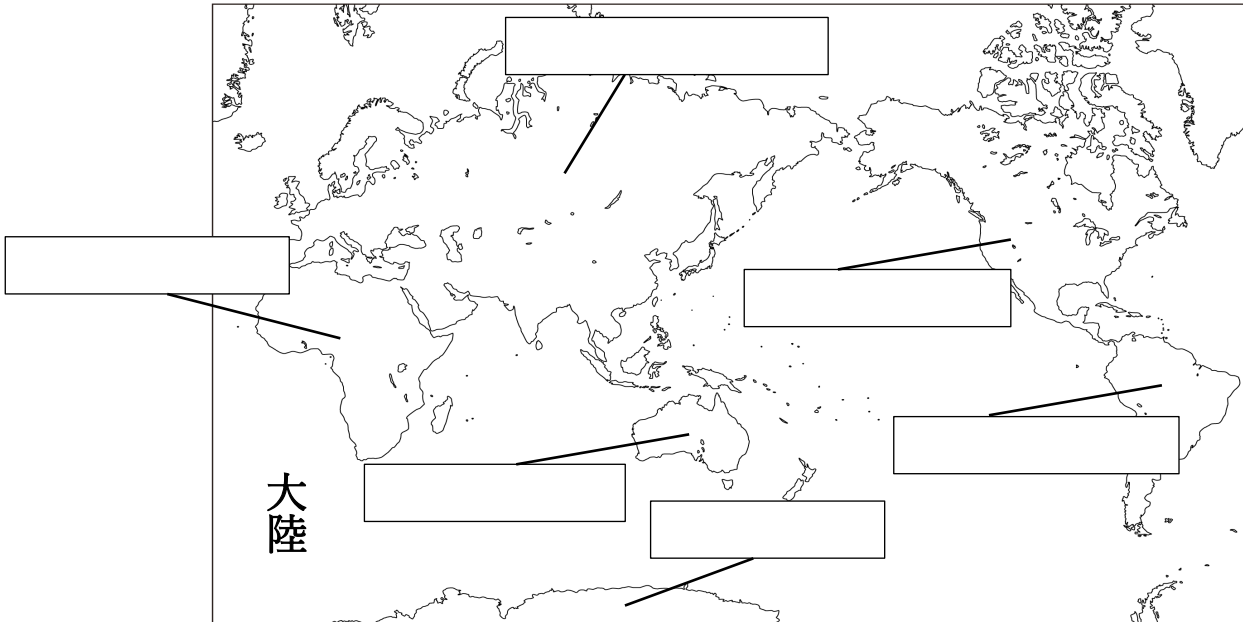


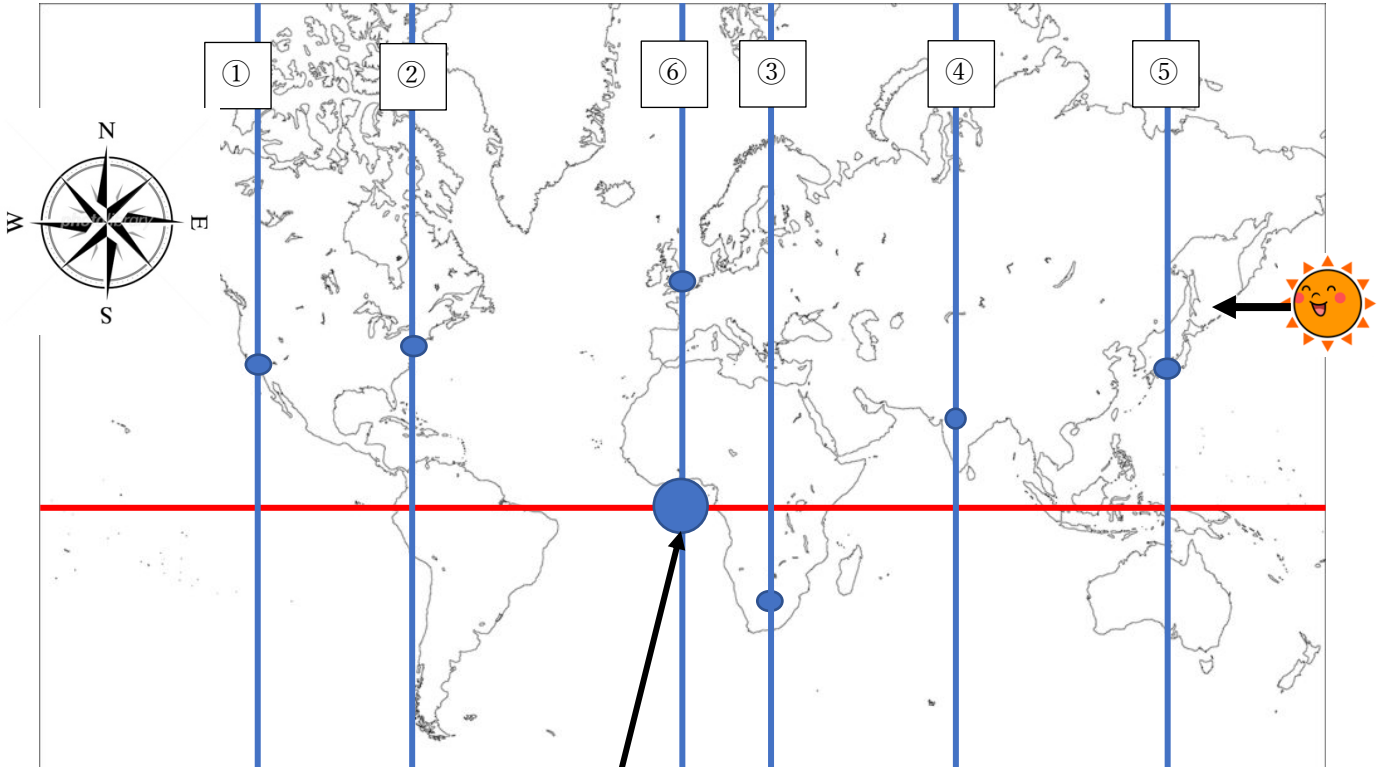
【1.世界のすがた】

1 地球とその表面

※北極は大陸ではない



2 地球上の位置



⑥ の線はイギリスの _____ を通る直線で、この直線を _____ と呼ぶ。

上の地図では、この直線と赤道の交点を丸く塗り潰している。世界中の土地の位置は「この交点から左右上下（東西南北）どのぐらいずれた場所にあるか」で表される

東西のずれを0～180度の _____ で表し、

南北のずれを0～90度の _____ で表す。

例えば⑤の線上にある東京の点は _____、 _____ というように表される。

太陽は _____ からのぼり、 _____ へ沈む。この地図上でいうと、一番右から一番左まで1日で移動することになる。そうすると、⑤の日本の近くに太陽がくる時（つまり日本のお昼）より、⑥のイギリスの近くに太陽がくる時（つまりイギリスのお昼）の方が大分遅い時間になる。この時間の差を _____ という。

この計算は2地点間の _____ の差を用いて行う。

例1：東経135°の⑤（東京）と東経75°の④（デリー）は、どちらが何時間早いのか

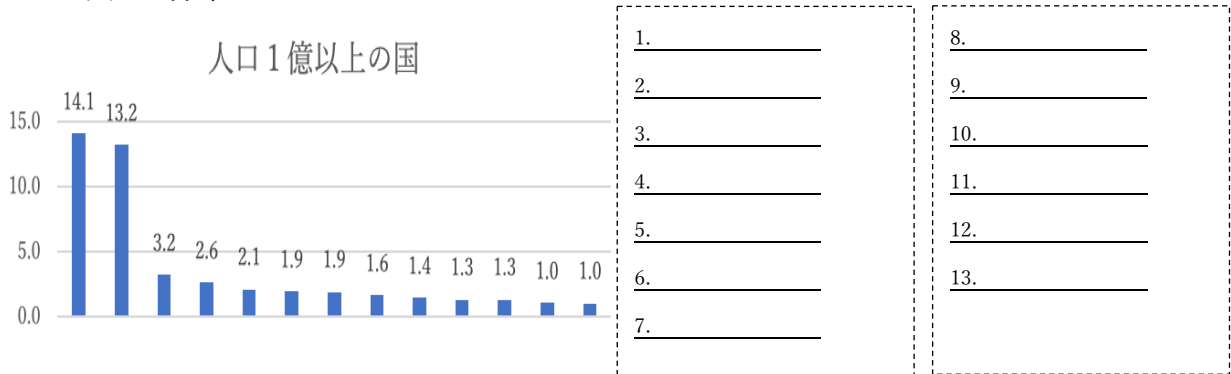
例2：東経30°の③（ヨハネスブルク）と西経120°の①（シアトル）は、どちらが何時間早いのか

3 世界の国々

1. わかれ方

地球の表面積は 5.1 億km²。戦争や交渉の歴史の中でその表面積を国境によって分割し、
 いまでは国が _____カ国あまり存在する。

2. 人口の分布



3. 国の発展度合い

国は経済的な発展度合いがそれぞれ異なる。よく発展している国を _____
 と呼び、いまだ発展の途中にある国を _____ と呼ぶ。

→それぞれの国の特徴

① 国内総生産 (GDP) の量・・・ _____

② 産業構造

・ _____ : 農林水産業のこと。モノカルチャー

・ _____ : 工業 (ものづくり) や鉱業 (資源) など

・ _____ : ... サービス業や流通業など

↑ _____ に多い

↓ _____ に多い

③ 人口構成

・ _____ : 出生率が高いが、平均寿命は短い。多産多死

・ _____ : 出生率は低く、平均寿命が長い。少産少死

※途上国から先進国へ：移り変わりの歴史

第一次世界大戦前 フランスやイギリスなどが世界のトップ

第一次世界大戦後 アメリカがトップ。その次にフランス・イギリスが2番手、その後ドイツ・日本が3番手

第二次世界大戦後 アメリカの優位が圧倒的（2位と差がつく）ドイツと日本は第二次世界大戦で敗北した後に高度成長（50～70年代）。日本が2番手、ドイツ3番手

1980年～ 韓国・台湾・香港・シンガポールなどが発展。

1990年～ 中国が急激に成長。2000年代には日本やドイツをぬいて世界2位になる。インドは2000年代から成長をしており、まだ発展途上。

4. 主要国の位置

次ページに、「位置を覚えておいて欲しい国ベスト25」を記載